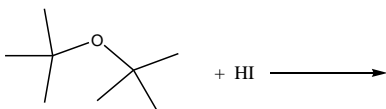
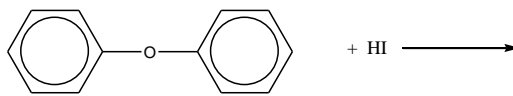
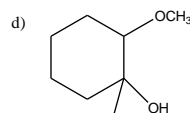
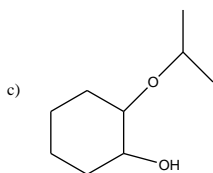
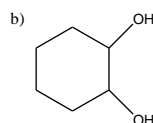
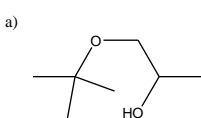


## Ejercicios 12

1. Escriba los productos de las siguientes reacciones químicas



2. Escriba mecanismos de reacción para obtener los siguientes productos a partir de epóxidos.



3. Escriba mecanismos para las siguientes reacciones:

