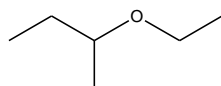


Tercer Examen Parcial de Química Orgánica II

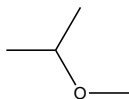
Noviembre 17, 2011.

1. Escriba las reacciones químicas de Síntesis de Williamson para obtener los siguientes productos: (valor 40%)

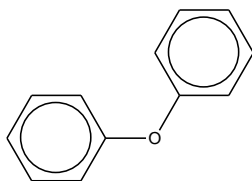
(a)



(b)



(c)



2. Escriba los mecanismos de las siguientes reacciones químicas: (valor 60 %)

